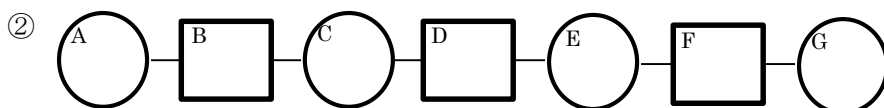
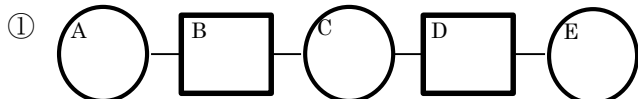
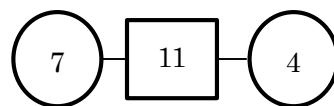


目標：

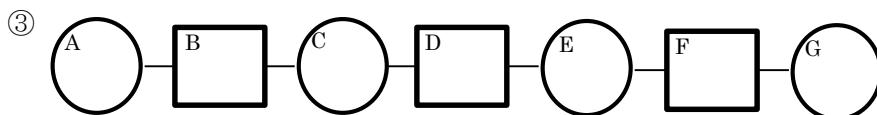
問題 右図のような数のつながりを「数のくさり」という。

太線の枠内には、その両どなりにある数を足した数が入る。

以下の数のくさりで、Aにあてはまる数を答えなさい。



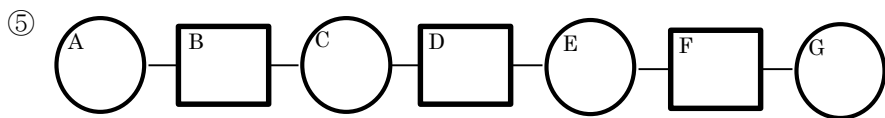
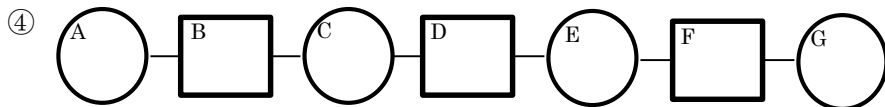
追加ルール：



☆自分の考え

.....

☆班や発表者の考え



～宿題～（四角の中に好きな数字を入れ、解き方も含めてレポートに書こう。）

