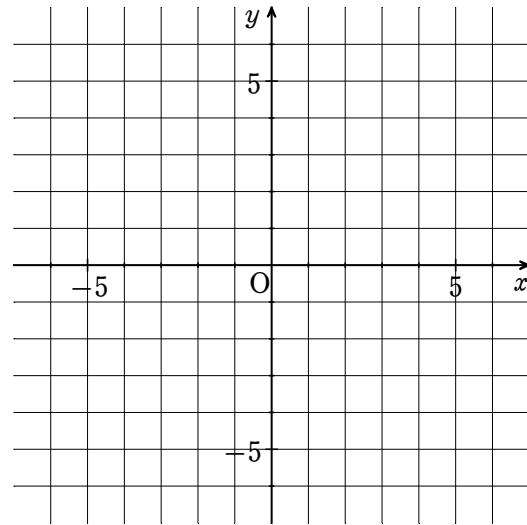


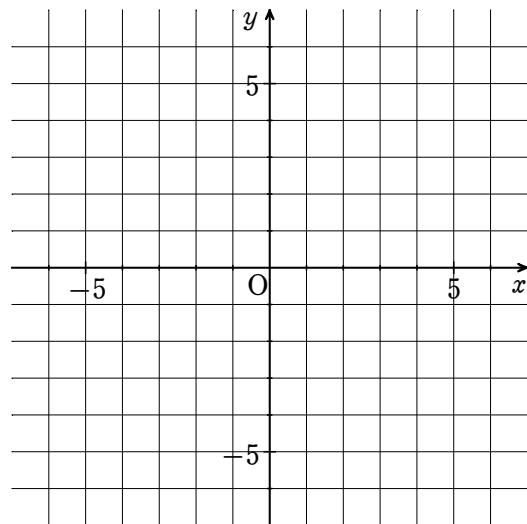


動画例題

- (1) 一次関数 $y = \frac{3}{2}x - 2$ のグラフを書きなさい。

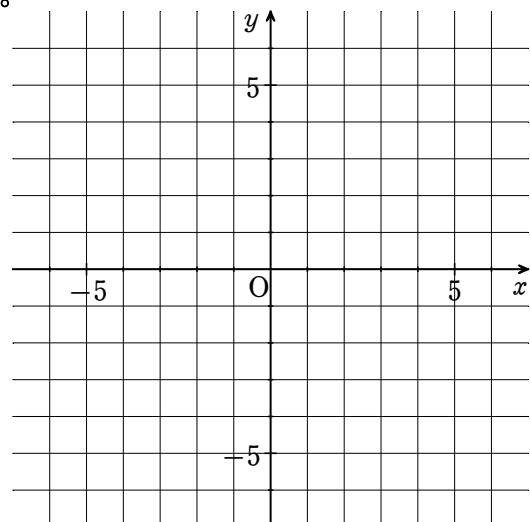


- (2) 一次関数 $y = -3x + 1$ のグラフを書きなさい。



練習問題 次の一次関数のグラフを書きなさい。

- (1) $y = -\frac{1}{2}x + 3$



- (2) $y = 2x - 5$